

义务教育教科书最新配套用书



KOUSUAN TIKA

# 口算题卡



《口算题卡》  
编写组 编

一年级下册

口算 · 心算 · 巧算 · 速算

齐鲁书社





KOUSUAN TIKA

# 口算题卡



《口算题卡》  
编写组 编

一年级下册

口算 · 心算 · 巧算 · 速算

齐鲁书社



## 图书在版编目(CIP)数据

口算题卡. 一年级. 下册 / 《口算题卡》编写组编

. -- 济南: 齐鲁书社, 2013. 12 (2019. 12 重印)

ISBN 978 - 7 - 5333 - 3036 - 1

I. ①口… II. ①口… III. ①速算—小学—习题集

IV. ①G624. 565

中国版本图书馆 CIP 数据核字(2017)第 263874 号

## 口算题卡 一年级下册

《口算题卡》编写组 编

---

主管单位	山东出版传媒股份有限公司
出版	齐鲁书社
社址	济南市英雄山路 189 号
邮编	250002
网址	www.qlss.com.cn
电子邮箱	qilupress@126.com
发行	山东新华书店集团有限公司
印刷	山东滨州新华印刷有限公司
开本	850mm × 1168mm 1/32
印张	4
字数	80 千字
版次	2013 年 12 月第 1 版
印次	2019 年 12 月第 7 次印刷
书号	ISBN 978 - 7 - 5333 - 3036 - 1
定价	8.80 元

---


# 前 言

小学数学课程标准对计算提出的要求是“熟练、正确和会”，而“熟练”是“正确”的基础。要做到“熟练、正确和会”，就需要一套有效的工具来保障。口算就是提高学生计算正确率的突破口，因为口说出的同时需要心算来快速反应，这实际上已经成为一种学习习惯。这种习惯在经历了有意识的培养和训练后，能够使学生在有限的时间内提高计算的正确率。

《口算题卡》对课本中的重点、难点和学生的易错点进行了强化训练，且题目设置由易到难。这样的编排方式，既能逐步提高学生的运算能力，又能巩固知识，可谓一举两得。

## 20 以内的退位减法

$11-9=2$	$11-8=3$	$11-7=4$	$11-6=5$	$11-5=6$	$11-4=7$	$11-3=8$	$11-2=9$
$12-9=3$	$12-8=4$	$12-7=5$	$12-6=6$	$12-5=7$	$12-4=8$	$12-3=9$	
$13-9=4$	$13-8=5$	$13-7=6$	$13-6=7$	$13-5=8$	$13-4=9$		
$14-9=5$	$14-8=6$	$14-7=7$	$14-6=8$	$14-5=9$			
$15-9=6$	$15-8=7$	$15-7=8$	$15-6=9$				
$16-9=7$	$16-8=8$	$16-7=9$					
$17-9=8$	$17-8=9$						
$18-9=9$							



想一想,填一填。

①  $13-9=(\quad)$

计算  $13-9$  时,把 13 分成 $(\quad)$ 和 $(\quad)$ ,先算 $(\quad)-9=(\quad)$ ,再算 $(\quad)+(\quad)=(\quad)$ 。

②  $14-9=(\quad)$

计算  $14-9$  时,把 14 分成 $(\quad)$ 和 $(\quad)$ ,先算 $(\quad)-9=(\quad)$ ,再算 $(\quad)+(\quad)=(\quad)$ 。

③  $17-9=(\quad)$

计算  $17-9$  时,把 9 分成 $(\quad)$ 和 $(\quad)$ ,先算  $17-(\quad)=(\quad)$ ,再算 $(\quad)-(\quad)=(\quad)$ 。

④  $16-9=(\quad)$

计算  $16-9$  时,把 9 分成 $(\quad)$ 和 $(\quad)$ ,先算  $16-(\quad)=(\quad)$ ,再算 $(\quad)-(\quad)=(\quad)$ 。

一、比一比,算一算。

①  $\begin{cases} 9+3= \\ 12-9= \end{cases}$

②  $\begin{cases} 9+6= \\ 15-9= \end{cases}$

③  $\begin{cases} 9+8= \\ 17-9= \end{cases}$

④  $\begin{cases} 9+2= \\ 11-9= \end{cases}$

二、读一读,填一填。

①

18	- 9 =	
17		
16		
15		

②

14	- 9 =	
13		
12		
11		

三、看图列式计算。

①

? 只

16 只

○  =  (只)

②

? 只

17 只

○  =  (只)

一、在○里填上“>”“<”或“=”。

①  $5+2$  ○  $19-9$

④  $15-9$  ○  $4+9$

⑦  $6+9$  ○  $8+7$

②  $13-9$  ○  $5$

⑤  $10$  ○  $18-9$

⑧  $11-9$  ○  $2$

③  $13-0$  ○  $0+13$

⑥  $7+9$  ○  $8+9$

⑨  $6$  ○  $14-9$

二、算一算，填一填。

				
原有	16 个	13 个	17 个	( ) 个
卖了	9 个	( ) 个	9 个	9 个
还剩	( ) 个	9 个	( ) 个	11 个



## 一、细心算一算。

①  $10+5-9=$

⑤  $15-9+2=$

⑨  $10+7-9=$

②  $7+6-9=$

⑥  $12-9+2=$

⑩  $11-9+7=$

③  $16+2-9=$

⑦  $13-9+2=$

⑪  $17-9+2=$

④  $12-9+3=$

⑧  $19-9+6=$

⑫  $6+5-9=$

## 二、解决问题。

① 岸上原有 12 只小鸭子,后来有 9 只到河里游泳去了。现在岸上还剩多少只小鸭子?

② 丁丁做了 16 朵红花,丽丽做了 9 朵红花。丽丽至少还要再做几朵红花,才能超过丁丁?

## 一、比一比,算一算。

$$\textcircled{1} \begin{cases} 8+5= \\ 13-8= \end{cases}$$

$$\textcircled{3} \begin{cases} 8+3= \\ 11-8= \end{cases}$$

$$\textcircled{5} \begin{cases} 7+6= \\ 13-7= \end{cases}$$

$$\textcircled{2} \begin{cases} 7+4= \\ 11-7= \end{cases}$$

$$\textcircled{4} \begin{cases} 8+7= \\ 15-8= \end{cases}$$

$$\textcircled{6} \begin{cases} 8+6= \\ 14-8= \end{cases}$$

## 二、读一读,填一填。

$$\textcircled{1} \begin{array}{|c|} \hline 12 \\ \hline 14 \\ \hline 16 \\ \hline 17 \\ \hline \end{array} - 8 = \begin{array}{|c|} \hline \\ \hline \\ \hline \\ \hline \end{array}$$

$$\textcircled{2} \begin{array}{|c|} \hline 12 \\ \hline 14 \\ \hline 15 \\ \hline 16 \\ \hline \end{array} - 7 = \begin{array}{|c|} \hline \\ \hline \\ \hline \\ \hline \end{array}$$

$$\textcircled{3} \begin{array}{|c|} \hline 11 \\ \hline 13 \\ \hline 15 \\ \hline 17 \\ \hline \end{array} - 9 = \begin{array}{|c|} \hline \\ \hline \\ \hline \\ \hline \end{array}$$

## 一、在○里填上“&gt;”“&lt;”或“=”。

①  $12-7$  ○  $6$

⑤  $16-8$  ○  $9$

⑨  $13-7$  ○  $12-8$

②  $15-8$  ○  $8$

⑥  $13-7$  ○  $5$

⑩  $16-8$  ○  $15-9$

③  $4$  ○  $12-8$

⑦  $13-8$  ○  $6$

⑪  $12-8$  ○  $11-9$

④  $14-7$  ○  $5$

⑧  $15-7$  ○  $8$

⑫  $18-9$  ○  $15-7$

## 二、看图写算式。



□ + □ = □

□ - □ = □

□ - □ = □



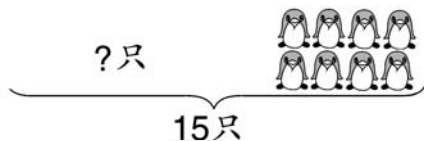
□ + □ = □

□ - □ = □

□ - □ = □


## 一、看图列式计算。

①



$$\square \bigcirc \square = \square \text{ (只)}$$

②



$$\square \bigcirc \square = \square \text{ (只)}$$

## 二、在( )里填上合适的数。

①  $11 - ( ) = 8$

③  $( ) - 7 = 8$

⑤  $16 - ( ) = 8$

②  $12 - ( ) = 7$

④  $( ) - 8 = 4$

⑥  $13 - ( ) = 7$

## 三、解决问题。

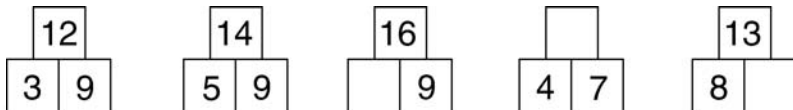
我有17个胡萝卜，  
分给你8个。



你还剩几个胡萝卜？



## 一、找规律,填一填。



## 二、每种小花分别代表几?

①

$13 - \text{花} = 5$	$\text{花} + \text{花} = 15$
$\text{花} = \square$	$\text{花} = \square$

②

$\text{花} + 7 = 14$	$15 - \text{花} = \text{花}$
$\text{花} = ( \quad )$	$\text{花} = ( \quad )$

## 三、解决问题。

- ① 青青再跳多少下就和妙妙一样多了?



- ② 动物园里有 13 只小象, 每只小象要吃 1 根香蕉。现在动物园饲养员已经准备了 8 根香蕉, 还差多少根?

## 一、比一比，算一算。

①	$6+9=$ $15-6=$ $15-9=$	②	$6+7=$ $13-6=$ $13-7=$	③	$8+5=$ $13-8=$ $13-5=$	④	$5+7=$ $12-5=$ $12-7=$
---	------------------------------	---	------------------------------	---	------------------------------	---	------------------------------

## 二、细心算一算。

①  $11-2=$

⑤  $14-6=$

⑨  $13-4=$

②  $12-6=$

⑥  $12-3=$

⑩  $11-5=$

③  $14-5=$

⑦  $14-7=$

⑪  $11-3=$

④  $12-4=$

⑧  $11-6=$

⑫  $11-7=$

一、算一算,填一填。


①  $7 \xrightarrow{+5} \square \xrightarrow{-6} \square \xrightarrow{+8} \square \xrightarrow{-9} \square \xrightarrow{+6} \square$

②  $12 \xrightarrow{-7} \square \xrightarrow{+9} \square \xrightarrow{-8} \square \xrightarrow{+7} \square \xrightarrow{-4} \square$

③  $4 \xrightarrow{+9} \square \xrightarrow{-7} \square \xrightarrow{+8} \square \xrightarrow{-5} \square \xrightarrow{+3} \square$

④  $16 \xrightarrow{-8} \square \xrightarrow{+5} \square \xrightarrow{-7} \square \xrightarrow{+4} \square \xrightarrow{-8} \square$

二、看图写算式。



$\square + \square = \square$

$\square - \square = \square$

$\square - \square = \square$



$\square + \square = \square$

$\square - \square = \square$

$\square - \square = \square$

## 一、细心算一算。

①  $15 - 6 =$

⑤  $7 + 6 =$

⑨  $16 - 8 =$

②  $13 - 5 =$

⑥  $9 + 7 =$

⑩  $13 - 7 =$

③  $13 - 6 =$

⑦  $15 - 7 =$

⑪  $12 - 8 =$

④  $6 + 8 =$

⑧  $4 + 8 =$

⑫  $7 + 9 =$

## 二、在○里填上“&gt;”“&lt;”或“=”。

①  $14 - 5 \bigcirc 8$

④  $11 - 4 \bigcirc 7$

⑦  $12 - 3 \bigcirc 15 - 7$

②  $13 - 7 \bigcirc 6$

⑤  $12 - 5 \bigcirc 6$

⑧  $11 - 3 \bigcirc 13 - 8$

③  $12 - 4 \bigcirc 11 - 9$

⑥  $13 - 5 \bigcirc 14 - 5$

⑨  $11 - 7 \bigcirc 13 - 4$



## 一、算一算，填一填。

①

		合计
7支	4支	( )支

有( )支铅笔,有( )  
支钢笔。一共有多少支笔?

$$\square \bigcirc \square = \square \text{ (支)}$$

②

		合计
( )支	5支	11支

一共有( )支笔,其中有( )  
支钢笔。有多少支铅笔?

$$\square \bigcirc \square = \square \text{ (支)}$$

## 二、解决问题。

我做了6道题,  
还有5道没做。

欢欢



一共有11道题,  
我做了3道。

方方



① 欢欢一共要做多少道题?

② 方方还有多少道题没做?

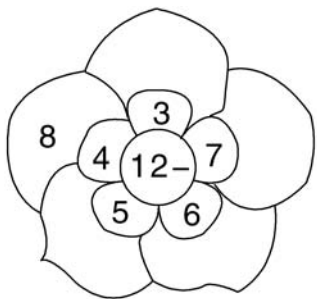
复习

13

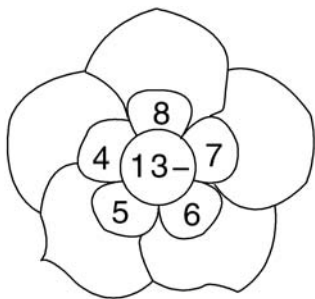
时间：\_\_分\_\_秒 评价：☆☆☆☆☆

一、想一想,填一填。

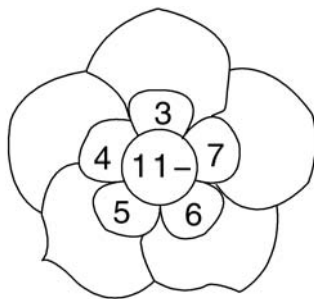
①



②



③



二、细心算一算。

①  $4+8+6=$

⑤  $11-3-3=$

⑨  $15-6+7=$

②  $5+4+7=$

⑥  $8+7-9=$

⑩  $19-5-8=$

③  $12-4+5=$

⑦  $11-2+4=$

⑪  $13-5-6=$

④  $14-5-8=$

⑧  $3+8-7=$

⑫  $6+9-7=$

## 三、在○里填上“&gt;”“&lt;”或“=”。

①  $11-4$  ○  $6$

⑤  $12-4$  ○  $13-4$

⑨  $13-9$  ○  $15-7$

②  $12-5$  ○  $7$

⑥  $15-7$  ○  $16-8$

⑩  $11-6$  ○  $12-6$

③  $14-8$  ○  $5$

⑦  $14-8$  ○  $14-7$

⑪  $13-7$  ○  $15-9$

④  $13-5$  ○  $12-5$

⑧  $15-6$  ○  $11-2$

⑫  $13-4$  ○  $3+5$

## 四、算一算,填一填。

				
原有	12 瓶	11 个	14 副	( ) 个
卖出	4 瓶	5 个	( ) 副	6 个
还剩	( ) 瓶	( ) 个	6 副	11 个

复习

15

时间：\_\_分\_\_秒 评价：☆☆☆☆☆

五、在( )里填上合适的数。

① ( ) - 5 = 7

⑧ ( ) - 9 = 4

⑮ 13 - ( ) = 7

② 7 + ( ) = 11

⑨ ( ) - 5 = 9

⑯ 11 - ( ) = 3

③ 12 - ( ) = 8

⑩ ( ) - 6 = 8

⑰ 15 - ( ) = 7

④ 11 - ( ) = 6

⑪ 12 - ( ) = 6

⑱ 16 - ( ) = 8

⑤ 4 + ( ) = 12

⑫ ( ) - 7 = 6

⑲ 13 - ( ) = 8

⑥ 3 + ( ) = 12

⑬ 17 - ( ) = 9

⑳ 15 - ( ) = 6

⑦ ( ) + 6 = 14

⑭ ( ) + 8 = 16

㉑ 14 - ( ) = 7

六、解决问题。

① 套圈比赛,乐乐套中了12个,明明套中了7个。明明再套几个就和乐乐一样多了?

② 小丽今年11岁,小明今年4岁。3年后,小丽比小明大多少岁?

## 七、想一想,填一填。

①  $13 - 8 = \square - \square$

④  $13 - 9 = \square - \square$

⑦  $12 - 9 = \square - \square$

②  $12 - 6 = \square - \square$

⑤  $12 - 4 = \square - \square$

⑧  $14 - 7 = \square - \square$

③  $18 - 9 = \square - \square$

⑥  $11 - 7 = \square - \square$

⑨  $12 - 5 = \square - \square$

## 八、解决问题。

①

大蛋糕上有  
12个鸡蛋。

每只小动物吃一个鸡蛋,蛋糕  
上还剩几个鸡蛋?

②

11个气球,  
放飞了2个。

小狐狸还剩几个气球?

一、认一认,连一连。



1 时



快到 8 时



9 时半



刚过 9 时

二、看钟面,写时刻。



( ) 时



大约( ) 时






大约( ) 时





( ) 时半

一、看图填一填。

		
<p>( )时</p>	<p>( )时半</p>	<p>大约( )时</p>

二、比一比,填一填。

 <p>小龙</p>	 <p>小刚</p>	 <p>小明</p>
---	---	---

( )是第一名,( )是第三名。

## 一、数一数,写一写。

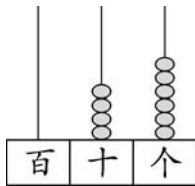
① 从 78 写到 83: \_\_\_\_\_

② 从 53 写到 60: \_\_\_\_\_

③ 从 94 写到 100: \_\_\_\_\_

## 二、看图填一填。

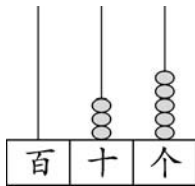
①



( ) 个十和 ( ) 个

一合起来是 ( )。

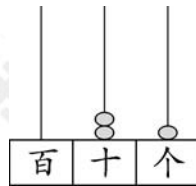
②



( ) 里面有 ( ) 个

十和 ( ) 个一。

③




( ) 个十和 ( ) 个

一合起来是 ( )。



## 一、数一数，填一填。



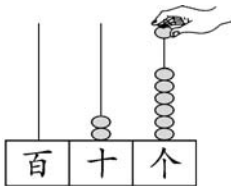
① 估一估，选一选。

20  40  60 

② 10个10个地数，有( )个10还多( )个，共有( )个。

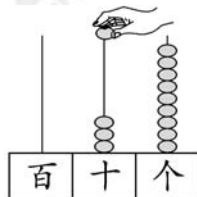
## 二、看图填一填。

①



在个位上加1个珠子后，  
表示的数是( )。

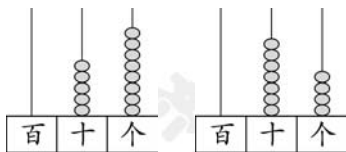
②



在十位上加1个珠子后，  
表示的数是( )。

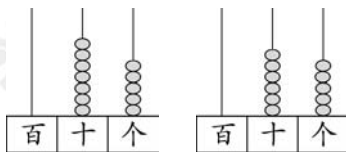
## 一、填一填，比一比。

①



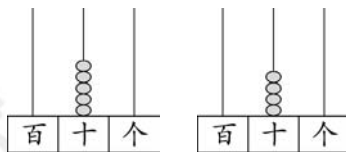
( ) ○ ( )

②



( ) ○ ( )

③



( ) ○ ( )

## 二、在○里填上“&gt;”或“&lt;”。

① 53 ○ 36

⑤ 87 ○ 96

⑨ 94 ○ 100

② 48 ○ 50

⑥ 79 ○ 80

⑩ 69 ○ 78

③ 63 ○ 60


⑦ 85 ○ 95

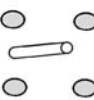
⑪ 89 ○ 99


④ 52 ○ 42

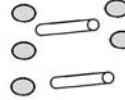
⑧ 42 ○ 30

⑫ 64 ○ 46

一、○表示10，表示1，在比30大的数下面画“√”。

①   
( )

②   
( )

③   
( )

二、排一排。

37 73 44 56 81 92

( ) < ( ) < ( ) < ( ) < ( ) < ( )

三、按要求填一填。


28 45 55 85 18 59 75 95 100

① 个位上是5的数：\_\_\_\_\_

② 比50大的数：\_\_\_\_\_

③ 比50小的数：\_\_\_\_\_

一、比一比,连一连。



多得多

多一些

少一些

少得多

二、在合适的答案下面画“√”。

我吃的比小绿吃的多得多。



我吃的比小绿吃的少一些。



我吃了35只害虫。



和 各吃了多少只害虫?

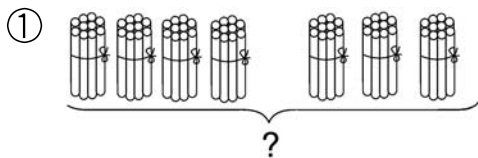
	80	40	28

按要求做一做。

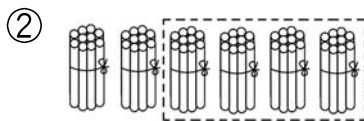
1							8		
				15					
	22			25					
			34	35	36				
								49	50
51							57		
							67		
71									
		83		85					

- ① 按顺序在上表中填数。
- ② 个位上是7的数：\_\_\_\_\_
- ③ 十位上是3的数：\_\_\_\_\_
- ④ 个位上的数字与十位上的数字相同的数：\_\_\_\_\_

## 一、看图列式计算。



$$\square \bigcirc \square = \square$$



$$\square \bigcirc \square = \square$$

## 二、细心算一算。

①  $80 - 50 =$

⑤  $90 - 30 =$

⑨  $30 + 40 =$

②  $10 + 30 =$

⑥  $70 + 20 =$

⑩  $40 - 20 =$

③  $10 + 50 =$

⑦  $80 + 20 =$

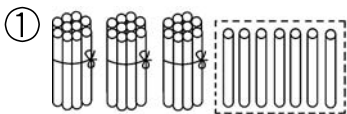
⑪  $100 - 30 =$

④  $40 + 50 =$

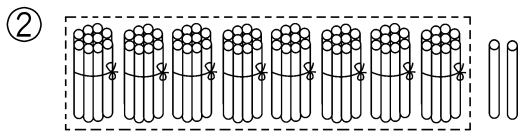
⑧  $70 - 40 =$

⑫  $90 - 60 =$

一、看图列式计算。



$$\square \bigcirc \square = \square$$



$$\square \bigcirc \square = \square$$

二、细心算一算。

①  $6 + 40 =$

⑥  $4 + 80 =$

⑪  $49 - 40 =$

②  $51 - 1 =$

⑦  $2 + 40 =$

⑫  $63 - 3 =$

③  $6 + 30 =$

⑧  $68 - 8 =$

⑬  $7 + 60 =$

④  $26 - 20 =$

⑨  $5 + 20 =$

⑭  $89 - 9 =$

⑤  $20 + 4 =$

⑩  $7 + 30 =$

⑮  $94 - 4 =$

## 一、细心算一算。

①  $30 + 4 =$

⑤  $7 + 50 =$

⑨  $3 + 20 =$

⑬  $53 - 50 =$

②  $22 - 2 =$

⑥  $28 - 8 =$

⑩  $33 - 30 =$

⑭  $30 + 3 =$

③  $40 + 4 =$

⑦  $50 + 7 =$

⑪  $9 + 40 =$

⑮  $80 + 5 =$

④  $69 - 9 =$

⑧  $40 + 6 =$

⑫  $60 + 8 =$



⑯  $90 + 6 =$

## 二、算一算,填一填。

				
原有	47 个	68 根	( ) 个	80 个
借走	7 个	( ) 根	30 个	30 个
还剩	( ) 个	60 根	5 个	( ) 个



一、算一算,填一填。



二、解决问题。



① 刘一投了多少分?

② 丁丁比刘一少投了多少分?

复习

29

时间：\_\_\_分\_\_\_秒 评价：☆☆☆☆☆

一、认一认,连一连。



3 时



6 时半



刚过 11 时



快到 10 时

二、看钟面,写时刻。



\_\_\_ 时



大约 \_\_\_ 时

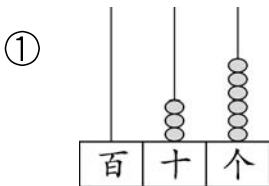


\_\_\_ 时半



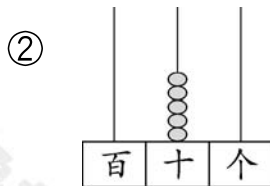
大约 \_\_\_ 时

三、读写下面各数。



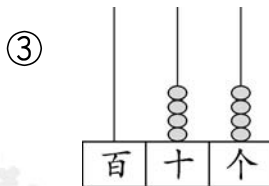
读作：\_\_\_\_\_

写作：\_\_\_\_\_



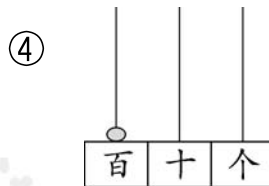
读作：\_\_\_\_\_

写作：\_\_\_\_\_



读作：\_\_\_\_\_

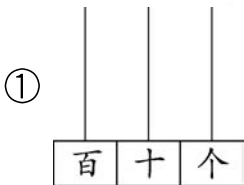
写作：\_\_\_\_\_



读作：\_\_\_\_\_

写作：\_\_\_\_\_

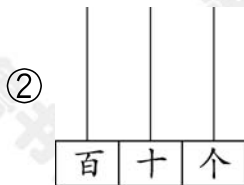
四、画一画,填一填。



61

有( )个十

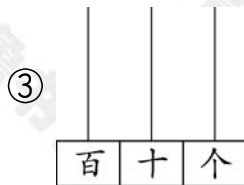
和( )个一



30

有( )个十

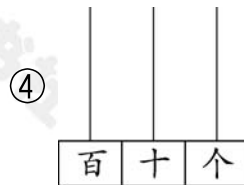
和( )个一



93

有( )个十

和( )个一



55

有( )个十

和( )个一

复习

31

时间：\_\_\_分\_\_\_秒 评价：☆☆☆☆☆

五、在○里填上“>”“<”或“=”。

①  $78 \bigcirc 87$

⑥  $99 \bigcirc 89$

⑪  $23 \bigcirc 33$

②  $68 \bigcirc 78$

⑦  $80 \bigcirc 79$

⑫  $58 \bigcirc 91$

③  $100 \bigcirc 10$

⑧  $50 \bigcirc 60$

⑬  $45 \bigcirc 54$

④  $69 \bigcirc 69$

⑨  $56 \bigcirc 59$

⑭  $100 \bigcirc 99$

⑤  $43 \bigcirc 53$

⑩  $73 \bigcirc 37$

⑮  $80 \bigcirc 8$

六、猜一猜。

小白兔拔了27个萝卜，小灰兔拔的比小白兔多一些。小灰兔可能拔了多少个萝卜？在合适的答案下面画“√”。

5	25	29	50

## 七、想一想,填一填。

- ① 8个一和7个十组成的数是( )。
- ② 一个两位数,十位上的数字与个位上的相同,这个两位数可能是( )。
- ③ 一个两位数的十位上是4,个位上的数字比十位上的多5,这个两位数是( )。

## 八、选一选。

- ① 谁吃的虫子最多?

我吃了80条虫子。



我吃了64条虫子。

我吃了48条虫子。



- ②

图画书有36本。



故事书要比图画书多得多。



有90本吗?



比90本少一些。



故事书可能有多少本?

85本	99本	40本

复习

33

时间：\_\_\_分\_\_\_秒 评价：☆☆☆☆☆

九、细心算一算。

①  $20 + 9 =$

⑤  $48 - 40 =$

⑨  $70 + 9 =$

⑬  $40 + 8 =$

②  $27 - 20 =$

⑥  $42 - 2 =$

⑩  $34 - 4 =$

⑭  $32 - 2 =$

③  $6 + 60 =$

⑦  $9 + 50 =$

⑪  $7 + 90 =$

⑮  $30 + 9 =$

④  $56 - 6 =$

⑧  $58 - 8 =$

⑫  $85 - 5 =$

⑯  $3 + 40 =$

十、下面的图形分别表示几？

①  $\blacklozenge + \star = 90$      $\blacklozenge - 30 = 40$

$\blacklozenge = ( \quad )$      $\star = ( \quad )$

②  $\diamond + \blacklozenge = 100$      $80 - \blacklozenge = 40$

$\diamond = ( \quad )$      $\blacklozenge = ( \quad )$

## 十一、解决问题。

- ① 买一套衣服一共需要多少钱？一条裤子比一件上衣便宜多少钱？



50元



30元

- ② 买一套童话书要48元。用掉储蓄罐里的钱，还差多少钱？

储蓄罐里只有8元。



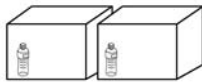
③



有50个学生，  
3个老师。



每人一瓶矿泉水，  
55瓶够吗？



解决问题。

① 写出和是 10 的所有算式。

② 从 1 写到 100，一共写了多少个“5”？

③ 30 以内的数中，有多少个单数？多少个双数？分别写出来。

④ 王老师把 9 支铅笔全部分给小明和小红两位小朋友，有几种分法？（每人至少分得 1 支）



解决问题。

① 把 10 个苹果放在 2 个盘子里,有几种放法?

② 50 以内的数中,有多少个双数? 多少个单数? 分别写出来。

③ 从 10 以内的数中选取两个数,要求它们相减的得数是 4,有几种选法?

④ 从 1 写到 50,一共写了多少个“3”?


一、连一连。



圆      长方形      正方形      平行四边形      三角形



二、分一分,填一填。




长方形	( )个
正方形	( )个
平行四边形	( )个
圆	( )个
三角形	( )个


一、哪组小棒能围成正方形？画“√”。



( )

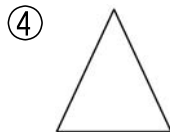
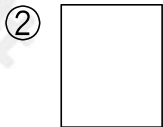



( )

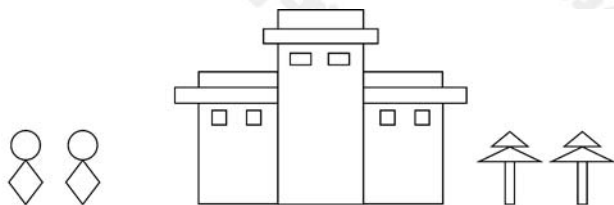


( )

二、画一条线段，把下面的图形分成 2 个相同的三角形。



三、数一数，填一填。



平行四边形	( )个
圆	( )个
长方形	( )个
三角形	( )个
正方形	( )个

## 一、细心算一算。

①  $45 + 2 =$

⑤  $33 + 3 =$

⑨  $25 + 4 =$

⑬  $23 + 4 =$

②  $21 + 8 =$

⑥  $41 + 6 =$

⑩  $76 + 2 =$

⑭  $25 + 2 =$

③  $44 + 3 =$

⑦  $54 + 4 =$

⑪  $53 + 4 =$

⑮  $24 + 5 =$

④  $32 + 7 =$

⑧  $53 + 5 =$

⑫  $23 + 3 =$

⑯  $41 + 7 =$

## 二、解决问题。

我采了5个果子。



我采了34个果子。



小松鼠兄弟俩一共采了多少个果子?

$$\square \bigcirc \square = \square (\text{个})$$

## 一、细心算一算。

①  $32 + 4 =$

⑤  $54 + 3 =$

⑨  $33 + 6 =$

②  $34 + 3 =$

⑥  $7 + 42 =$

⑩  $51 + 3 =$

③  $35 + 2 =$

⑦  $25 + 3 =$

⑪  $53 + 2 =$

④  $42 + 6 =$

⑧  $72 + 7 =$

⑫  $64 + 3 =$

## 二、在○里填上“&gt;”“&lt;”或“=”。

①  $54 + 2$  ○  $74$

④  $7 + 41$  ○  $48$

⑦  $3 + 22$  ○  $52$

②  $72$  ○  $4 + 32$

⑤  $53 + 6$  ○  $59$

⑧  $4 + 35$  ○  $75$

③  $62 + 5$  ○  $76$

⑥  $83$  ○  $6 + 23$

⑨  $63 + 6$  ○  $69$

## 一、细心算一算。

①  $32 + 60 =$

④  $68 + 20 =$

⑦  $26 + 70 =$

⑩  $74 + 10 =$

②  $46 + 30 =$

⑤  $42 + 40 =$

⑧  $35 + 40 =$

⑪  $67 + 20 =$

③  $28 + 50 =$


⑥  $38 + 50 =$

⑨  $26 + 20 =$

⑫  $49 + 40 =$

## 二、解决问题。

我已经写了45个字，  
还要写4个字。



军军

我已经写了  
30个字。

丫丫

我已经写了32个字，  
还要写6个字。



小花

① 军军一共要写多少个字?

③ 你还能提出什么问题?

② 小花和丫丫一共写了多少个字?

## 一、细心算一算。

①  $6 + 43 =$

⑥  $54 + 2 =$

⑪  $3 + 42 =$

②  $27 + 10 =$

⑦  $2 + 27 =$

⑫  $43 + 20 =$

③  $34 + 2 =$

⑧  $60 + 34 =$

⑬  $2 + 22 =$

④  $50 + 26 =$

⑨  $42 + 7 =$

⑭  $53 + 30 =$

⑤  $55 + 3 =$

⑩  $33 + 60 =$

⑮  $62 + 6 =$

## 二、读一读,填一填。

① 

24
56
45

 + 3 = 


② 

24
56
45

 + 30 = 


③ 

3
5
40

 + 32 = 


## 一、想一想,算一算。

①  $39 + 4 = \square$

②  $86 + 7 = \square$

③  $69 + 9 = \square$

## 二、细心算一算。

①  $29 + 8 =$

⑤  $5 + 46 =$

⑨  $39 + 2 =$

②  $47 + 3 =$

⑥  $7 + 35 =$

⑩  $3 + 59 =$

③  $4 + 28 =$

⑦  $58 + 4 =$

⑪  $7 + 44 =$

④  $67 + 7 =$

⑧  $64 + 7 =$

⑫  $36 + 5 =$



## 一、细心算一算。

①  $68 + 3 =$

⑥  $38 + 5 =$

⑪  $8 + 48 =$

②  $9 + 81 =$

⑦  $67 + 4 =$

⑫  $34 + 7 =$

③  $79 + 7 =$

⑧  $79 + 2 =$

⑬  $85 + 8 =$

④  $26 + 7 =$

⑨  $6 + 48 =$

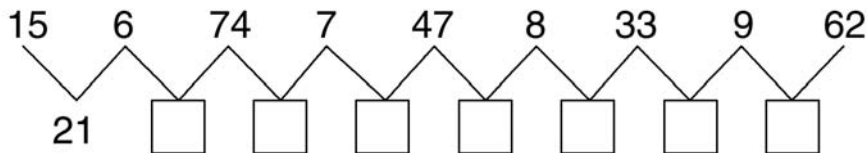
⑭  $9 + 75 =$

⑤  $47 + 6 =$

⑩  $26 + 5 =$

⑮  $76 + 8 =$

## 二、照样子算一算,填一填。



## 一、在○里填上“&gt;”“&lt;”或“=”。

①  $36 + 8 \bigcirc 42$

⑤  $8 + 63 \bigcirc 76$

⑨  $86 \bigcirc 76 + 8$

②  $53 + 9 \bigcirc 7 + 55$

⑥  $66 + 9 \bigcirc 8 + 68$

⑩  $49 + 5 \bigcirc 54$

③  $7 + 73 \bigcirc 8 + 74$

⑦  $26 + 9 \bigcirc 36$

⑪  $88 + 6 \bigcirc 93$

④  $89 + 8 \bigcirc 96$

⑧  $34 + 7 \bigcirc 40$

⑫  $61 \bigcirc 53 + 9$

## 二、解决问题。



$$\square \bigcirc \square = \square \text{ (个)}$$

② 小明今年 7 岁,小明的爸爸比小明大 26 岁。小明的爸爸今年多少岁?

$$\square \bigcirc \square = \square \text{ (岁)}$$

## 一、细心算一算。

①  $68 + 5 =$

⑤  $7 + 47 =$

⑨  $3 + 89 =$

②  $9 + 74 =$

⑥  $54 + 7 =$

⑩  $63 + 8 =$

③  $55 + 9 =$

⑦  $76 + 5 =$

⑪  $82 + 9 =$

④  $28 + 8 =$

⑧  $2 + 69 =$

⑫  $58 + 5 =$

## 二、读一读,填一填。

① 

20
25
77

 + 6 = 


② 

7
8
60

 + 34 = 


③ 

17
25
49

 + 8 = 


一、答案不对的是毒蘑菇,请帮小兔圈出来。



$35+8$

$43$

$4+53$

$93$

$48+6$

$44$

$72+8$

$80$

$82+7$

$99$

$74+8$

$72$

$56+6$

$62$

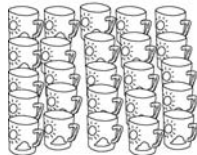
$8+42$

$50$

二、解决问题。

大风车幼儿园中班有 30 个小朋友,老师想给每个小朋友都准备一个杯子,准备这些杯子够吗?


25个



8个



## 一、算一算,填一填。



$16 + 8 =$  →  $83 + 9 =$  →  $78 + 9 =$  →  $65 + 8 =$   
 $67 + 6 =$  ←  $43 + 9 =$  ←  $53 + 8 =$  ←  $76 + 6 =$

## 二、解决问题。

①

我俩摘了35个苹果。



我摘了9个苹果。



它们一共摘了多少个苹果?

②

我俩摘了68个草莓,还剩7个没摘。



原来一共有多少个草莓?

## 一、比一比,算一算。

①  $\begin{cases} 6-4= \\ 26-4= \end{cases}$

②  $\begin{cases} 9-5= \\ 49-5= \end{cases}$

③  $\begin{cases} 7-3= \\ 87-3= \end{cases}$

④  $\begin{cases} 8-2= \\ 38-2= \end{cases}$

## 二、细心算一算。

①  $29-6=$

⑤  $39-8=$

⑨  $55-3=$

②  $95-3=$

⑥  $76-5=$

⑩  $89-8=$

③  $44-3=$

⑦  $28-7=$

⑪  $28-4=$

④  $67-5=$

⑧  $85-4=$

⑫  $63-2=$

## 三、解决问题。



梨比苹果多几个?



足球比排球少几个?

## 一、细心算一算。

①  $56 - 4 =$

⑤  $64 - 2 =$

⑨  $47 - 6 =$

②  $36 - 4 =$

⑥  $96 - 4 =$

⑩  $87 - 5 =$

③  $77 - 4 =$

⑦  $59 - 6 =$

⑪  $78 - 4 =$

④  $68 - 5 =$

⑧  $29 - 7 =$

⑫  $65 - 4 =$

## 二、解决问题。

- ① 小红和小刚比赛跳绳，小红每分钟跳 99 下，小刚每分钟跳 80 下。小刚每分钟比小红少跳多少下？

$$\square \bigcirc \square = \square \text{ (下)}$$

- ② 一班和二班参加植树活动，一班植树 48 棵，比二班多植 5 棵。二班植树多少棵？

$$\square \bigcirc \square = \square \text{ (棵)}$$

## 一、比一比,算一算。

$$\textcircled{1} \begin{cases} 75 - 3 = \\ 75 - 30 = \end{cases}$$

$$\textcircled{3} \begin{cases} 69 - 5 = \\ 69 - 50 = \end{cases}$$

$$\textcircled{5} \begin{cases} 57 - 3 = \\ 57 - 30 = \end{cases}$$

$$\textcircled{2} \begin{cases} 86 - 4 = \\ 86 - 40 = \end{cases}$$

$$\textcircled{4} \begin{cases} 89 - 6 = \\ 89 - 60 = \end{cases}$$

$$\textcircled{6} \begin{cases} 98 - 8 = \\ 98 - 80 = \end{cases}$$

## 二、细心算一算。

$$\textcircled{1} 37 - 20 =$$

$$\textcircled{5} 74 - 20 =$$

$$\textcircled{9} 57 - 30 =$$

$$\textcircled{2} 85 - 60 =$$

$$\textcircled{6} 49 - 30 =$$

$$\textcircled{10} 55 - 30 =$$

$$\textcircled{3} 68 - 40 =$$

$$\textcircled{7} 63 - 50 =$$

$$\textcircled{11} 48 - 20 =$$

$$\textcircled{4} 96 - 80 =$$

$$\textcircled{8} 28 - 10 =$$

$$\textcircled{12} 82 - 60 =$$



## 一、细心算一算。

①  $76 - 4 =$

⑥  $51 - 20 =$

⑪  $78 - 5 =$

②  $25 - 10 =$

⑦  $58 - 3 =$

⑫  $67 - 50 =$

③  $36 - 5 =$

⑧  $62 - 30 =$

⑬  $85 - 3 =$

④  $74 - 70 =$

⑨  $39 - 7 =$

⑭  $93 - 60 =$

⑤  $88 - 7 =$

⑩  $69 - 10 =$

⑮  $37 - 5 =$

## 二、在○里填上“&gt;”“&lt;”或“=”。

①  $76 - 30$  ○  $73$

④  $72 + 8$  ○  $90$

⑦  $49 - 5$  ○  $44$

②  $53 - 20$  ○  $36$

⑤  $82 - 2$  ○  $79$

⑧  $64 - 30$  ○  $64 - 40$

③  $98 - 6$  ○  $92$

⑥  $49$  ○  $49 - 10$

⑨  $78 + 6$  ○  $86 - 2$

## 一、细心算一算。

①  $74 - 30 =$

⑤  $38 - 20 =$

⑨  $59 - 40 =$

⑬  $69 - 20 =$

②  $43 - 20 =$

⑥  $73 - 40 =$

⑩  $92 - 60 =$

⑭  $83 - 40 =$

③  $49 - 20 =$

⑦  $72 - 50 =$

⑪  $68 - 30 =$

⑮  $68 - 50 =$

④  $65 - 30 =$

⑧  $88 - 50 =$

⑫  $85 - 50 =$

⑯  $85 - 30 =$

## 二、解决问题。

- ① 一张儿童票比一张成人票便宜多少钱?



成人票 85元

儿童票 40元

- ② 方方今年 6 岁,妈妈今年 32 岁,4 年后妈妈比方方大多少岁?

## 一、细心算一算。

①  $39 - 7 =$

④  $37 - 6 =$

⑦  $46 - 4 =$

⑩  $78 - 6 =$

②  $59 - 8 =$

⑤  $47 - 5 =$

⑧  $47 - 6 =$

⑪  $79 - 8 =$

③  $48 - 7 =$

⑥  $26 - 4 =$

⑨  $37 - 5 =$

⑫  $67 - 5 =$

## 二、在○里填上“&gt;”“&lt;”或“=”。

①  $78 - 5$  ○  $76 - 4$

③  $83 + 5$  ○  $89 - 2$

⑤  $67 - 3$  ○  $62 + 4$

②  $64 + 5$  ○  $69 - 4$

④  $72 + 7$  ○  $73 + 6$

⑥  $59 - 3$  ○  $5 + 51$

## 三、解决问题。

谁收的玉米更多？多多少个？

我收了6  
个玉米。



欢欢

我收了27  
个玉米。



小刚

## 一、想一想,算一算。

①  $27 - 9 = \square$

②  $52 - 3 = \square$

③  $63 - 6 = \square$

## 二、细心算一算。

①  $51 - 5 =$

⑥  $51 - 8 =$

⑪  $60 - 3 =$

②  $41 - 4 =$

⑦  $35 - 6 =$

⑫  $35 - 9 =$

③  $32 - 3 =$

⑧  $41 - 6 =$

⑬  $20 - 1 =$

④  $20 - 2 =$

⑨  $22 - 5 =$

⑭  $42 - 8 =$

⑤  $46 - 9 =$

⑩  $42 - 4 =$

⑮  $52 - 9 =$

## 一、细心算一算。

①  $76 - 2 =$

⑤  $33 + 5 =$

⑨  $6 + 32 =$

②  $45 - 8 =$

⑥  $88 - 6 =$

⑩  $74 + 3 =$

③  $89 - 7 =$

⑦  $7 + 61 =$

⑪  $73 - 9 =$

④  $72 + 6 =$

⑧  $87 - 4 =$

⑫  $24 + 10 =$

## 二、算一算,填一填。

				
原有	80 个	60 顶	70 副	30 辆
卖出	4 个	6 顶	5 副	8 辆
还剩	( ) 个	( ) 顶	( ) 副	( ) 辆

## 一、细心算一算。

①  $35 - 8 =$

⑤  $51 - 4 =$

⑨  $40 - 8 =$

⑬  $42 - 7 =$

②  $51 - 7 =$

⑥  $52 - 3 =$

⑩  $62 - 5 =$

⑭  $36 - 9 =$

③  $90 - 6 =$

⑦  $60 - 2 =$

⑪  $23 - 6 =$

⑮  $43 - 7 =$

④  $32 - 5 =$

⑧  $43 - 9 =$

⑫  $30 - 5 =$

⑯  $35 - 7 =$

## 二、解决问题。

① 小华比小丽多几张邮票?

我有30张邮票。



② 兰兰有 40 支水彩笔,借给同学一些后,还剩 9 支。兰兰借给同学多少支水彩笔?

## 一、细心算一算。

①  $80 - 8 =$

⑤  $44 - 9 =$

⑨  $61 - 9 =$

⑬  $43 - 8 =$

②  $61 - 3 =$

⑥  $72 - 9 =$

⑩  $71 - 7 =$

⑭  $53 - 7 =$

③  $70 - 6 =$

⑦  $83 - 5 =$

⑪  $54 - 8 =$

⑮  $60 - 6 =$

④  $73 - 5 =$

⑧  $67 - 8 =$

⑫  $47 - 9 =$

⑯  $45 - 7 =$

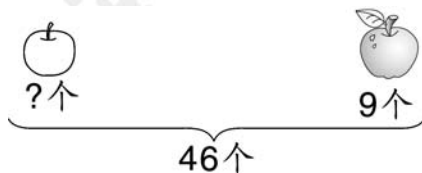
## 二、看图列式计算。

①



$$\square \bigcirc \square = \square (\text{个})$$

②



$$\square \bigcirc \square = \square (\text{个})$$

一、下面的计算对吗? 对的画“√”, 错的画“×”并改正。

①  $74 - 5 = 24$  \_\_\_\_\_

③  $36 - 8 = 28$  \_\_\_\_\_

⑤  $43 - 7 = 36$  \_\_\_\_\_

②  $54 - 7 = 57$  \_\_\_\_\_

④  $56 - 9 = 65$  \_\_\_\_\_

⑥  $84 - 6 = 24$  \_\_\_\_\_

二、解决问题。

- ① 一天共安装多少台电脑? 上午比下午多安装多少台电脑?



上午安装了34台电脑,  
下午安装了8台电脑。

- ② 每只小兔都摘了30个苹果, 它们都送了一些苹果给自己的好朋友。它们分别送给好朋友多少个苹果?

我还剩7个。

我还剩5个。



小花



小灰



小白

我还剩9个。



## 一、细心算一算。

①  $60 - 4 =$

④  $60 - 3 =$

⑦  $73 - 7 =$

⑩  $68 - 9 =$

②  $80 - 8 =$

⑤  $44 - 8 =$

⑧  $21 - 6 =$

⑪  $30 - 7 =$

③  $54 - 6 =$

⑥  $62 - 5 =$

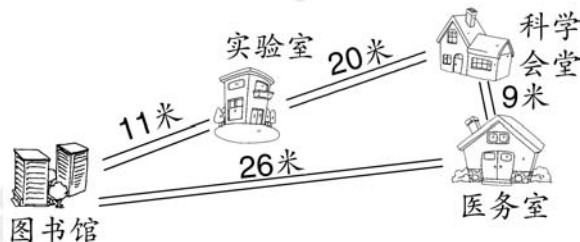
⑨  $35 - 7 =$

⑫  $60 - 6 =$

## 二、解决问题。

- ① 从图书馆经过医务室去科学会堂，  
一共要走多少米？

- ② 从图书馆到实验室比从医务室到  
科学会堂远多少米？



- ③ 你还能提出其他数学问题吗？

复习

61

时间：\_\_\_分\_\_\_秒 评价：☆☆☆☆☆

一、细心算一算。

①  $58 + 6 =$

④  $39 + 3 =$

⑦  $7 + 72 =$

⑩  $87 - 8 =$

②  $47 - 8 =$

⑤  $5 + 42 =$

⑧  $78 - 40 =$

⑪  $49 + 20 =$

③  $32 + 3 =$

⑥  $75 + 7 =$

⑨  $61 - 8 =$

⑫  $58 + 3 =$

二、读一读，填一填。

① 

4
5
9

 + 38 = 


② 

28
45
75

 + 6 = 


③ 

33
52
74

 - 9 = 


三、填一填。(填序号)



①    ③    ⑤    ⑦    ⑨    ⑪



②    ④    ⑥    ⑧    ⑩    ⑫

长方形：\_\_\_\_\_

正方形：\_\_\_\_\_

三角形：\_\_\_\_\_

圆形：\_\_\_\_\_

平行四边形：\_\_\_\_\_

## 四、细心算一算。

①  $92 - 3 =$

⑥  $51 - 20 =$

⑪  $43 + 30 =$

②  $34 + 7 =$

⑦  $81 - 8 =$

⑫  $42 - 5 =$

③  $81 - 3 =$

⑧  $62 + 8 =$

⑬  $60 - 6 =$

④  $44 - 6 =$

⑨  $50 + 36 =$

⑭  $65 + 7 =$

⑤  $80 - 5 =$

⑩  $82 - 40 =$

⑮  $92 - 9 =$

## 五、填一填。

①  $31 \xrightarrow{+20} \square \xrightarrow{-6} \square \xrightarrow{+9} \square \xrightarrow{-30} \square \xrightarrow{+9} \square$

②  $60 \xrightarrow{-8} \square \xrightarrow{-5} \square \xrightarrow{+40} \square \xrightarrow{+7} \square \xrightarrow{-6} \square$

③  $74 \xrightarrow{-60} \square \xrightarrow{+7} \square \xrightarrow{+30} \square \xrightarrow{-6} \square \xrightarrow{-9} \square$



## 口算题卡

一年级下册

责任编辑：王贵男  
装帧设计：王其宝  
刘羽珂



ISBN 978-7-5333-3036-1



0 2 >

9 787533 330361

定价：8.80元