

义务教育教科书最新配套用书



五四学制

# 口算题卡



《口算题卡》  
编写组 编

WUSI XUEZHI KOUSUAN TIKA

二年级下册

口算 · 心算 · 巧算 · 速算

齊魯書社





五四学制

# 口算题卡



《口算题卡》  
编写组 编

WUSI XUEZHI KOUSUAN TIKA

二年级下册

口算 · 心算 · 巧算 · 速算

齐鲁书社



## 图书在版编目(CIP)数据

五四学制口算题卡. 二年级. 下册 / 《口算题卡》  
编写组编. -- 济南: 齐鲁书社, 2014.1 (2019.12 重印)  
ISBN 978-7-5333-3043-9

I. ①五… II. ①口… III. ①速算—小学—习题集  
IV. ①G624.565

中国版本图书馆 CIP 数据核字(2017)第 280702 号

## 五四学制口算题卡 二年级下册

《口算题卡》编写组 编

---

主管单位 山东出版传媒股份有限公司  
出 版 齐鲁书社  
社 址 济南市英雄山路 189 号  
邮 编 250002  
网 址 www.qlss.com.cn  
电子邮箱 qilupress@126.com  
发 行 山东新华书店集团有限公司  
印 刷 山东聊城兴华印刷有限公司  
开 本 850mm × 1168mm 1/32  
印 张 4  
字 数 80 千字  
版 次 2014 年 1 月第 1 版  
印 次 2019 年 12 月第 7 次印刷  
书 号 ISBN 978-7-5333-3043-9  
定 价 9.00 元

---

# 前 言

小学数学课程标准对计算提出的要求是“熟练、正确和会”，而“熟练”是“正确”的基础。要做到“熟练、正确和会”，就需要一套有效的工具来保障。口算就是提高学生计算正确率的突破口，因为口说出的同时需要心算来快速反应，这实际上已经成为一种学习习惯。这种习惯在经历了有意识的培养和训练后，能够使学生在有限的时间内提高计算的正确率。

《五四学制口算题卡》对课本中的重点、难点和学生的易错点进行了强化训练，且题目设置由易到难。这样的编排方式，既能逐步提高学生的运算能力，又能巩固知识，可谓一举两得。

## 基础运算乘法口诀

$1 \times 1 = 1$											
$1 \times 2 = 2$	$2 \times 2 = 4$										
$1 \times 3 = 3$	$2 \times 3 = 6$	$3 \times 3 = 9$									
$1 \times 4 = 4$	$2 \times 4 = 8$	$3 \times 4 = 12$	$4 \times 4 = 16$								
$1 \times 5 = 5$	$2 \times 5 = 10$	$3 \times 5 = 15$	$4 \times 5 = 20$	$5 \times 5 = 25$							
$1 \times 6 = 6$	$2 \times 6 = 12$	$3 \times 6 = 18$	$4 \times 6 = 24$	$5 \times 6 = 30$	$6 \times 6 = 36$						
$1 \times 7 = 7$	$2 \times 7 = 14$	$3 \times 7 = 21$	$4 \times 7 = 28$	$5 \times 7 = 35$	$6 \times 7 = 42$	$7 \times 7 = 49$					
$1 \times 8 = 8$	$2 \times 8 = 16$	$3 \times 8 = 24$	$4 \times 8 = 32$	$5 \times 8 = 40$	$6 \times 8 = 48$	$7 \times 8 = 56$	$8 \times 8 = 64$				
$1 \times 9 = 9$	$2 \times 9 = 18$	$3 \times 9 = 27$	$4 \times 9 = 36$	$5 \times 9 = 45$	$6 \times 9 = 54$	$7 \times 9 = 63$	$8 \times 9 = 72$	$9 \times 9 = 81$			

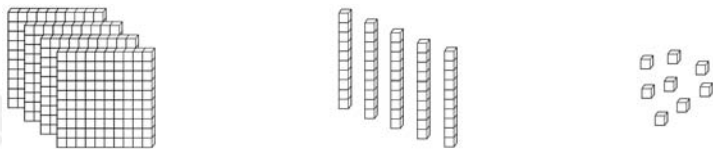
1 厘米 = 10 毫米      1 分米 = 10 厘米      1 米 = 10 分米      1 千米(公里) = 1000 米

1 千克 = 1000 克      1 吨 = 1000 千克



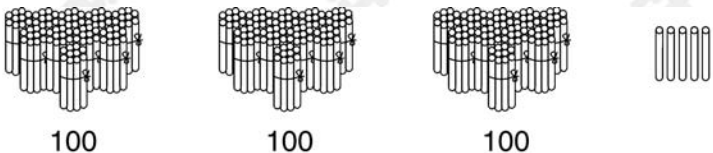
一、看图填一填。

①



( )个百、( )个十和( )个一,合起来是( )。

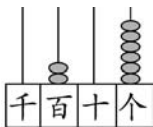
②



( )个百和( )个一,合起来是( )。

二、写一写,读一读。

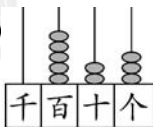
①



写作：\_\_\_\_\_

读作：\_\_\_\_\_

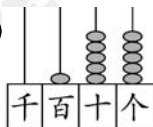
②



写作：\_\_\_\_\_

读作：\_\_\_\_\_

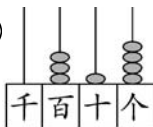
③



写作：\_\_\_\_\_

读作：\_\_\_\_\_

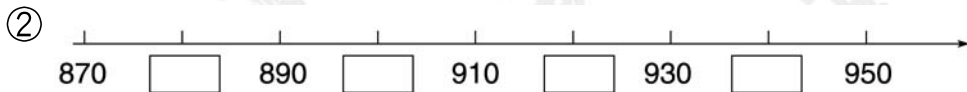
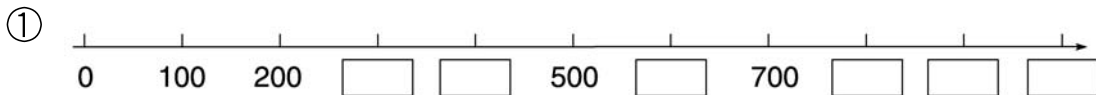
④



写作：\_\_\_\_\_

读作：\_\_\_\_\_

一、数一数,填一填。



二、连一连。

6 个百、4 个十和 2 个一

7 个百和 9 个一

15 个十

3 个百和 5 个十

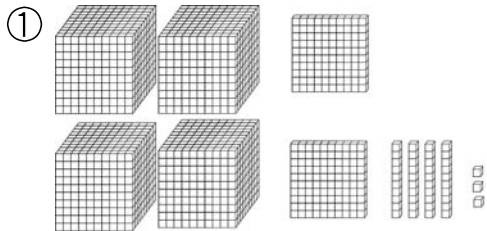
709

350

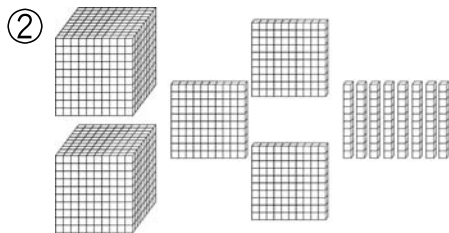
642

150

一、看图填一填。



( ) 个千、( ) 个百、  
 ( ) 个十和( ) 个一组成  
 ( )。



( ) 个千、( ) 个百和  
 ( ) 个十组成( )。

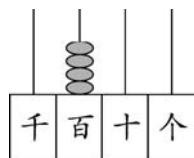
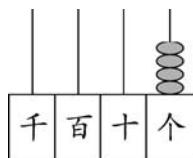
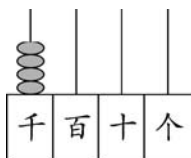
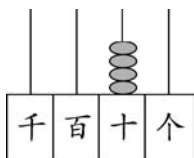
二、每个数中的“4”表示什么？连一连。

403

540

4220

1064

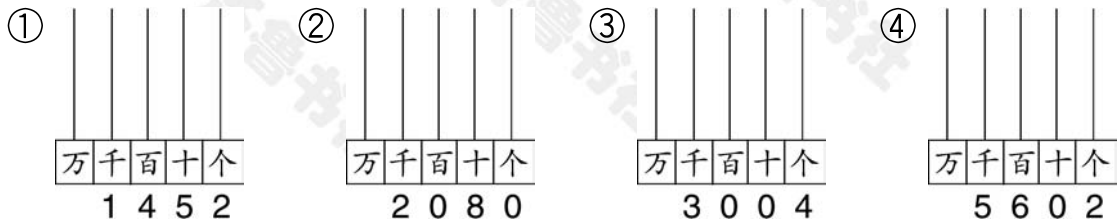




一、连一连。



二、先看数画珠子,再读数。



读作：\_\_\_\_\_ 读作：\_\_\_\_\_ 读作：\_\_\_\_\_ 读作：\_\_\_\_\_

一、读出下面各数。

① 2990

读作：\_\_\_\_\_

③ 2489

读作：\_\_\_\_\_

⑤ 7004

读作：\_\_\_\_\_

② 4600

读作：\_\_\_\_\_

④ 4761

读作：\_\_\_\_\_

⑥ 8070

读作：\_\_\_\_\_

二、写出下面各数。

① 七千

写作：\_\_\_\_\_

④ 九千七百五十六

写作：\_\_\_\_\_

⑦ 八千六百

写作：\_\_\_\_\_

② 三千七百二十五

写作：\_\_\_\_\_

⑤ 五千零四十

写作：\_\_\_\_\_

⑧ 一万

写作：\_\_\_\_\_

③ 五千六百七十

写作：\_\_\_\_\_

⑥ 八千二百四十

写作：\_\_\_\_\_

⑨ 九千零二

写作：\_\_\_\_\_

## 一、先读一读,再写出下面各数。

① 3个百和2个十 \_\_\_\_\_

⑤ 4个百、5个十和6个一 \_\_\_\_\_

② 5个百和7个一 \_\_\_\_\_

⑥ 8个百、6个十和9个一 \_\_\_\_\_

③ 8个千和9个一 \_\_\_\_\_

⑦ 6个千、3个十和4个一 \_\_\_\_\_

④ 9个千和8个十 \_\_\_\_\_

⑧ 4个千、6个百和3个一 \_\_\_\_\_

## 二、找规律,填一填。

① 970、980、990、( )、( )。

② ( )、( )、9998、9997、( )。

③ 7500、8000、8500、( )、( )。

④ 2000、4000、( )、8000、( )。

一、下面的数各接近几千？

① 7058 ≈

④ 7006 ≈

⑦ 3068 ≈

⑩ 4896 ≈

② 5941 ≈

⑤ 4029 ≈

⑧ 3198 ≈

⑪ 995 ≈

③ 6017 ≈

⑥ 2905 ≈

⑨ 7105 ≈

⑫ 8992 ≈

二、读一读,填一填。



小芳、小明和小兰家各有多少本书？把他们的名字写在表格里。

320	28	300	350	670

## 一、在○里填上“&lt;”或“&gt;”。

① 4900 ○ 4090

⑤ 1783 ○ 1378

⑨ 4600 ○ 4800

② 1000 ○ 999

⑥ 750 ○ 570

⑩ 909 ○ 999

③ 2560 ○ 5620

⑦ 405 ○ 4005

⑪ 9999 ○ 10000

④ 6487 ○ 6483

⑧ 10000 ○ 1000

⑫ 774 ○ 1067

## 二、□里最大能填几？

①  $165 > 1 \square 5$

⑤  $3 \square 27 < 3619$

⑨  $401 \square < 4016$

②  $555 > 5 \square 5$

⑥  $74 \square 3 < 7481$

⑩  $2396 > 23 \square 6$

③  $\square 630 < 3921$

⑦  $\square 388 < 5388$

⑪  $35 \square 7 < 3587$

④  $1427 > 14 \square 7$

⑧  $67 \square 3 < 6713$

⑫  $5439 > 543 \square$

## 一、想一想,填一填。

①  $400 + 200 = ( \quad )$

想:( $\quad$ )个百加上( $\quad$ )个百是( $\quad$ )个百,也就是( $\quad$ )。

②  $120 - 80 = ( \quad )$

想:( $\quad$ )个十减( $\quad$ )个十是( $\quad$ )个十,也就是( $\quad$ )。

## 二、读出结果,并写下来。

①  $8000 + 200 =$

⑥  $4000 + 1000 =$

⑪  $800 - 700 =$

②  $3700 + 100 =$

⑦  $5300 - 100 =$

⑫  $1600 - 500 =$

③  $4200 + 2000 =$

⑧  $4400 - 4000 =$

⑬  $5100 - 600 =$

④  $300 + 200 =$

⑨  $700 + 700 =$

⑭  $3600 - 900 =$

⑤  $2400 + 700 =$

⑩  $600 + 2100 =$

⑮  $7300 + 2000 =$

## 一、读出结果，并写下来。

①  $20 + 70 =$

⑥  $1000 + 200 =$

⑪  $600 - 300 =$

②  $5000 - 2000 =$

⑦  $800 + 300 =$

⑫  $130 - 60 =$

③  $150 - 90 =$

⑧  $3500 - 300 =$

⑬  $1600 - 800 =$

④  $1400 - 400 =$

⑨  $3100 - 100 =$

⑭  $340 + 90 =$

⑤  $3000 + 300 =$

⑩  $200 + 400 =$

⑮  $670 - 70 =$

## 二、解决问题。

某海鲜市场上午卖出 3600 条鱼，下午比上午多卖出 1000 条鱼。这个海鲜市场下午卖出多少条鱼？

## 一、读出结果，并写下来。

①  $6400 + 600 =$

⑥  $2100 + 900 =$

⑪  $6300 + 700 =$

②  $2500 - 900 =$

⑦  $3200 + 200 =$

⑫  $1200 - 800 =$

③  $7200 - 400 =$

⑧  $4800 + 300 =$

⑬  $3600 - 600 =$

④  $3400 - 500 =$

⑨  $2000 - 300 =$

⑭  $1400 + 500 =$

⑤  $3200 - 700 =$

⑩  $8300 + 500 =$

⑮  $1000 - 400 =$

## 二、在○里填上“&gt;”“&lt;”或“=”。

①  $500 + 400$  ○  $2000 - 1800$

④  $370 + 120$  ○  $930 - 120$

②  $360 + 200$  ○  $150 + 300$


⑤  $80 + 70$  ○  $200 - 150$


③  $460 - 80$  ○  $600 - 80$


⑥  $320 - 40$  ○  $200 + 80$

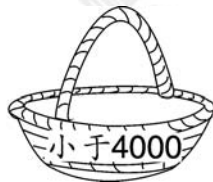
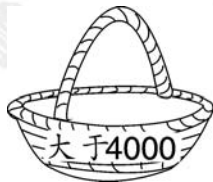



一、连一连。


  $5700 - 400$


  $3600 + 300$

  $200 + 2100$



  $4900 - 800$

  $300 + 800$

  $4900 - 300$

二、把表格补充完整。

①

加数	600	70	3000	100
加数	600	90	4000	900
和				

②

被减数	600	7500	4000	130
减数	100	700	2000	70
差				

## 一、估一估，填一填。



大约有 100 粒。



大约有( )粒。

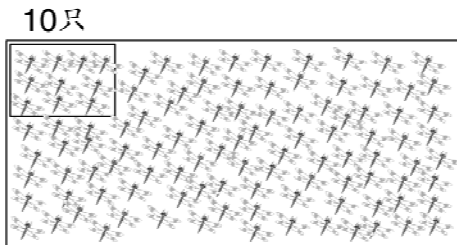


大约有( )粒。

## 二、下面这段文字大约有多少个字？说说你是怎样估计的。

从前有个磨坊主，他的女儿长得美丽无比，而且聪明伶俐，为人精明，因而她父亲总是不厌其烦地吹嘘她，把她吹得天花乱坠。有一天，磨坊主应召进宫，他对国王吹牛说，他女儿能把稻草纺成金子。谁知国王是个见钱眼开的人，一听磨坊主的话，马上就吩咐召见磨坊主的女儿。磨坊主的女儿进宫之后，国王把她领到一间装满了稻草的屋子前，然后给她一架纺车，并吩咐她道：“明天天亮之前，你必须把稻草全给我纺成金子，不然的话就处死你！”

一、估一估，下图中大约有多少只蜻蜓？在合适的答案下面画“√”。



约 50 只	约 120 只	约 1200 只

二、解决问题。



第 1 棵树到第 5 棵树的距离大约有多少米？

复习

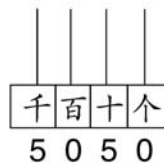
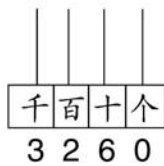
15

时间：\_\_\_分\_\_\_秒 评价：☆☆☆☆☆

一、读一读,填一填。

- ① 10 个一百是( ); 10 个一千是( )。
- ② 6305 是由( )个千、( )个百和( )个一组成的。
- ③ 一个数千位上是 5, 个位上是 1, 其余数位上都是 0, 这个数是( )。
- ④ 希望小学二年级有男生 316 人, 女生 298 人。希望小学二年级大约一共有( )人。

二、写一写,画一画。



三、下面哪几个数比较接近 1000? 请圈出来。

498

1003

986

2005

996

634

998

四、在○里填上“<”或“>”。

① 1016 ○ 998

④ 6930 ○ 6950

⑦ 999 ○ 101

② 716 ○ 760

⑤ 9996 ○ 10000

⑧ 3232 ○ 2323

③ 2001 ○ 2010

⑥ 356 ○ 365

⑨ 2001 ○ 1002

五、按顺序排列下面各数。

① 1300 1003 1030 1333 3100

( ) &gt; ( ) &gt; ( ) &gt; ( ) &gt; ( )

② 2960 2980 2908 2906 2609

( ) &lt; ( ) &lt; ( ) &lt; ( ) &lt; ( )

复习

17

时间：\_\_\_分\_\_\_秒 评价：☆☆☆☆☆

六、下面的说法正确吗？正确的在( )里画“√”，错误的画“×”。

① 从左边起第四位是万位。 ( )

② 由0、4、9组成的最小的三位数是490。 ( )

③ 18个百是180。 ( )

④ 最小的三位数与最小的四位数相差900。 ( )

七、在( )里填上合适的数。

① ( ) + 60 = 360

⑥ 300 + ( ) = 6300

② 1300 - ( ) = 700

⑦ 60 + ( ) = 660

③ ( ) + 400 = 4000

⑧ ( ) + 700 = 900

④ 200 + ( ) = 6200

⑨ 9300 - ( ) = 300

⑤ ( ) - 900 = 600


⑩ 3200 - ( ) = 400

## 八、解决问题。

①







140元



300元

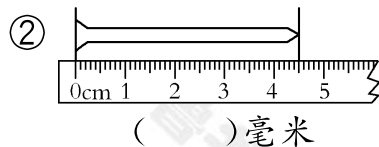
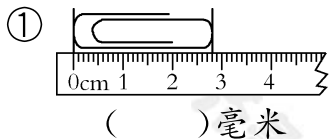


900元

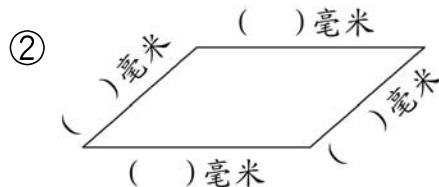
买一张  和一把  一共需要多少元？一张  比一张  贵多少元？

② 一根绳子长 600 米，第一次用去了 100 米，第二次用去了 320 米。这根绳子还剩多少米？

## 一、看图填一填。



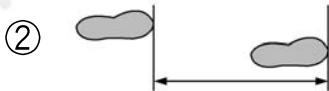
## 二、先估计图形的边长,再测量。



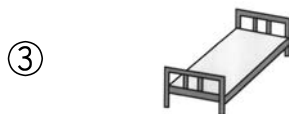
## 三、在( )里填上合适的长度单位。



身长约 6( )。



一步长约 5( )。



一张床长约 2( )。



## 一、在( )里填上合适的数。

① 4 厘米 = ( ) 毫米

② 7 分米 = ( ) 厘米

③ 30 厘米 = ( ) 分米

④ 80 毫米 = ( ) 厘米

⑤ 6 分米 - 4 分米 = ( ) 分米

⑥ 4 厘米 - 3 厘米 = ( ) 毫米

⑦ 50 毫米 - 17 毫米 = ( ) 毫米

⑧ 18 毫米 + 22 毫米 = ( ) 厘米

## 二、在○里填上“&gt;”“&lt;”或“=”。

① 6 厘米 ○ 59 毫米

② 3 厘米 + 18 毫米 ○ 48 毫米

③ 10 毫米 + 8 厘米 ○ 18 厘米

④ 1 米 - 8 分米 ○ 2 分米

⑤ 10 厘米 ○ 100 毫米

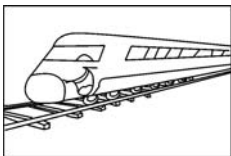
⑥ 2 分米 + 50 厘米 ○ 52 厘米

⑦ 10 厘米 - 9 毫米 ○ 1 厘米

⑧ 2 厘米 - 8 毫米 ○ 20 毫米

## 一、在( )里填上合适的长度单位。

①




高速列车每小时行  
驶约 300( )。

②



婴儿出生时身长  
约 48( )。

③



马拉松长跑比赛  
全长约 42( )。

## 二、读一读,填一填。

① 测量较远的距离时,我们用( )作单位,用字母表示为( )。

② 飞机是一种常用的交通工具,每小时可飞行 800( )。

③ 3000 米 = ( ) 千米      5 分米 = ( ) 厘米

6 厘米 = ( ) 毫米      9000 米 = ( ) 千米

## 一、在( )里填上合适的数。

① 1千米 + 3000米 = ( )米

⑥ 1千米 - 200米 = ( )米

② 54千米 - 26千米 = ( )千米

⑦ 8000米 - 4千米 = ( )米

③ 96千米 - 90千米 = ( )米

⑧ 6千米 - 3000米 = ( )米

④ 700米 + 300米 = ( )千米

⑨ 7000米 - 3000米 = ( )千米

⑤ 5000米 + 7000米 = ( )千米

⑩ 87厘米 - 37厘米 = ( )厘米

## 二、在○里填上“&gt;”“&lt;”或“=”。

① 2千米 ○ 700米

⑤ 3000米 ○ 5千米

② 8100米 ○ 8千米

⑥ 1千米 ○ 1100米

③ 8千米 - 2千米 ○ 8000米

⑦ 12千米 - 8千米 ○ 4000米

④ 3千米 + 900米 ○ 4千米 - 200米

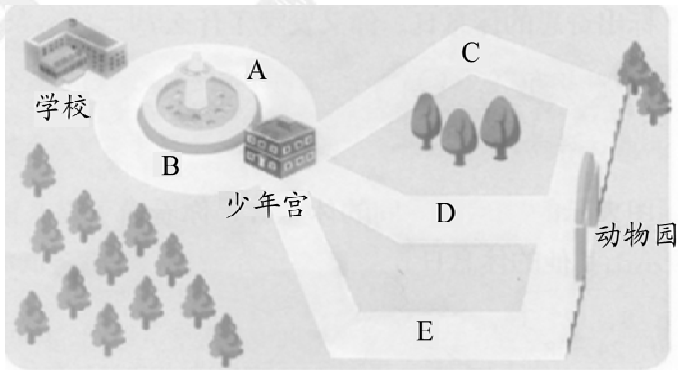
⑧ 1千米 - 1000米 ○ 1米

一、午餐有多少种搭配？（主食和炒菜只能各选一种）

今日午餐

主食：米饭	馒头
炒菜：西红柿炒鸡蛋	土豆片
青椒炒肉	红烧肉

二、从学校到动物园一共有多少种不同的走法？



解决问题。

- ① 小丽有3双不同颜色的袜子和4双不同颜色的鞋。她想选一双袜子和一双鞋,有多少种不同的选法?
- ② 班级文艺联欢会要选小主持人,现在从文文、乐乐、明明、琳琳和方方5个人中选2人,有多少种不同的选法?
- ③ 小明有铅笔、钢笔、中性笔各1支,日记本、作文本、笔记本各1本。他想选1支笔和1个本子,有多少种不同的选法?

## 一、读出结果,并写下来。

①  $24 + 33 =$

⑥  $73 - 13 =$

⑪  $45 + 43 =$

②  $34 + 25 =$

⑦  $54 - 32 =$

⑫  $48 - 24 =$

③  $55 - 14 =$

⑧  $41 - 21 =$

⑬  $57 + 21 =$

④  $32 + 45 =$

⑨  $34 + 44 =$

⑭  $46 - 33 =$

⑤  $23 + 16 =$

⑩  $45 - 13 =$

⑮  $57 + 12 =$

## 二、在○里填上“&gt;”“&lt;”或“=”。

①  $54 + 32$  ○  $87$

④  $21 + 47$  ○  $69$

⑦  $77 - 22$  ○  $54$

②  $53 - 23$  ○  $30$

⑤  $36 - 32$  ○  $5$

⑧  $56 - 35$  ○  $31$

③  $22 + 26$  ○  $47$

⑥  $61 + 28$  ○  $88$

⑨  $15 + 34$  ○  $49$

## 一、在○里填上“&gt;”“&lt;”或“=”。

①  $56 + 13$  ○  $70$

⑤  $36 + 22$  ○  $44 + 12$

⑨  $46 - 16$  ○  $46 - 15$

②  $21$  ○  $64 - 53$

⑥  $39 - 13$  ○  $77 - 55$

⑩  $45 + 23$  ○  $14 + 51$

③  $32 + 45$  ○  $76$

⑦  $52 + 43$  ○  $64 + 32$

⑪  $96 - 52$  ○  $57 - 14$

④  $98 - 41$  ○  $57$

⑧  $53 + 24$  ○  $46 + 23$

⑫  $37 - 6$  ○  $57 - 15$

## 二、解决问题。





23元



26元



96元

① 一个  和一个  一共多少元？② 一个  比一个  贵多少元？

## 一、竖式计算。

$$\begin{array}{r} \textcircled{1} \quad 230 \\ + 540 \\ \hline \end{array}$$

$$\begin{array}{r} \textcircled{4} \quad 657 \\ - 246 \\ \hline \end{array}$$

$$\begin{array}{r} \textcircled{7} \quad 724 \\ + 205 \\ \hline \end{array}$$

$$\begin{array}{r} \textcircled{2} \quad 240 \\ - 120 \\ \hline \end{array}$$

$$\begin{array}{r} \textcircled{5} \quad 316 \\ + 180 \\ \hline \end{array}$$

$$\begin{array}{r} \textcircled{8} \quad 966 \\ - 702 \\ \hline \end{array}$$

$$\begin{array}{r} \textcircled{3} \quad 436 \\ + 243 \\ \hline \end{array}$$

$$\begin{array}{r} \textcircled{6} \quad 306 \\ + 432 \\ \hline \end{array}$$

$$\begin{array}{r} \textcircled{9} \quad 494 \\ - 130 \\ \hline \end{array}$$

## 二、解决问题。

某校二年级有 275 人,三年级有 223 人。二年级和三年级一共有多少人?

二年级比三年级多多少人?



## 一、用竖式计算。

①  $450 + 210 =$

③  $278 - 166 =$

⑤  $543 + 305 =$

②  $295 - 124 =$

④  $410 + 270 =$

⑥  $56 + 413 =$

## 二、想一想,填一填。

① 计算  $385 + 214$  时,385 接近( ),214 接近( ),也就是( )+( )  
= $( )$ ,所以  $385 + 214 \approx ( )$ 。

②  $394 + 205 \approx ( )$

④  $595 + 182 \approx ( )$

⑥  $492 - 212 \approx ( )$

③  $198 + 101 \approx ( )$

⑤  $687 - 202 \approx ( )$

⑦  $106 + 581 \approx ( )$

## 一、用竖式计算。

①  $340 + 426 =$

③  $456 + 233 =$

⑤  $968 - 245 =$

②  $207 + 181 =$

④  $764 - 142 =$

⑥  $673 - 341 =$

## 二、解决问题。

电影院某天上午售出 345 张电影票,下午售出 233 张电影票。电影院这一天一共售出多少张电影票? 上午比下午多售出多少张电影票?

## 一、在( )里填上合适的数。

① ( ) + 343 = 768

④ 790 - ( ) = 360

② 320 + ( ) = 570

⑤ 241 + ( ) = 786

③ 957 - ( ) = 323

⑥ ( ) + 350 = 880

## 二、解决问题。





421元





166元



213元

估一估,买一个  和一个  大约需要几百元?

妈妈带了 500 元钱,买一个  和一台 ,够吗?

## 一、竖式计算。

$$\begin{array}{r} \textcircled{1} \quad 564 \\ + 328 \\ \hline \end{array}$$

$$\begin{array}{r} \textcircled{4} \quad 775 \\ - 218 \\ \hline \end{array}$$

$$\begin{array}{r} \textcircled{7} \quad 372 \\ - 235 \\ \hline \end{array}$$

$$\begin{array}{r} \textcircled{2} \quad 250 \\ - 146 \\ \hline \end{array}$$

$$\begin{array}{r} \textcircled{5} \quad 619 \\ - 457 \\ \hline \end{array}$$

$$\begin{array}{r} \textcircled{8} \quad 649 \\ + 326 \\ \hline \end{array}$$

$$\begin{array}{r} \textcircled{3} \quad 364 \\ + 485 \\ \hline \end{array}$$

$$\begin{array}{r} \textcircled{6} \quad 257 \\ + 436 \\ \hline \end{array}$$

$$\begin{array}{r} \textcircled{9} \quad 408 \\ - 387 \\ \hline \end{array}$$

## 二、解决问题。

光明小学给希望小学捐款。三年级捐了 349 元,二年级捐了 426 元。

① 两个年级一共捐了多少元?

② 三年级后来又捐了 132 元,三年级比二年级多捐了多少元?

## 一、用竖式计算。

①  $485 + 244 =$

③  $272 + 335 =$

⑤  $292 + 175 =$

②  $368 + 525 =$

④  $734 + 229 =$

⑥  $513 + 167 =$

## 二、解决问题。

① 某养殖场养了 395 只鸡, 462 只鸭。这个养殖场里鸡和鸭一共有多少只?

② 花园里有 123 盆菊花, 136 盆玫瑰花, 237 盆月季花。这三种花一共有多少盆?

## 一、用竖式计算。

①  $614 - 107 =$

③  $570 - 358 =$

⑤  $462 - 153 =$

②  $965 - 282 =$

④  $829 - 357 =$

⑥  $376 - 184 =$

## 二、解决问题。

① 果园里有 405 棵桃树, 315 棵梨树。这个果园里的桃树比梨树多多少棵?

② 停车场原来停放了 858 辆车, 第一次开走 236 辆, 第二次开走 331 辆。现在停车场还剩多少辆车?

## 一、用竖式计算。

①  $187 + 252 =$

③  $857 - 119 =$

⑤  $546 + 216 =$

②  $665 - 485 =$

④  $118 + 316 =$

⑥  $754 - 427 =$

## 二、在○里填上“&lt;”或“&gt;”。

①  $659 + 316$  ○  $963$

③  $968 - 587$  ○  $491$

⑤  $254 + 726$  ○  $970$

②  $405 - 313$  ○  $192$

④  $617 - 224$  ○  $493$

⑥  $586 - 149$  ○  $447$

## 一、用竖式计算。

①  $572 + 363 =$

③  $671 - 364 =$

⑤  $834 - 572 =$

②  $475 + 243 =$

④  $513 + 169 =$

⑥  $380 - 128 =$

## 二、解决问题。

王伯伯家今年收了 368 千克南瓜,已经卖掉了 276 千克,还剩多少千克南瓜?



一、下面计算正确的在( )里画“√”，错误的在( )里写出正确得数。

$$\begin{array}{r} \textcircled{1} \quad 512 \\ + 328 \\ \hline 830 \end{array} \quad ( \quad )$$

$$\begin{array}{r} \textcircled{2} \quad 217 \\ - 109 \\ \hline 108 \end{array} \quad ( \quad )$$

$$\begin{array}{r} \textcircled{3} \quad 453 \\ - 237 \\ \hline 226 \end{array} \quad ( \quad )$$

二、把下列算式按结果从小到大的顺序排一排。

$406 - 270$

$738 - 409$

$436 - 251$

$894 - 387$

( ) < ( ) < ( ) < ( )

三、解决问题。

某家具店里一张桌子 447 元，一把椅子 208 元。

① 买一张桌子和一把椅子一共需要多少元？

② 一张桌子比一把椅子贵多少元？

## 一、用竖式计算并验算。

①  $704 - 371 =$

③  $463 - 255 =$

⑤  $364 - 249 =$

②  $154 + 327 =$

④  $273 + 142 =$

⑥  $366 - 290 =$

## 二、解决问题。

水果店运来 463 千克水果, 卖出 255 千克后, 又运来了 145 千克。现在水果店有多少千克水果?

## 一、用竖式计算并验算。

①  $426 + 316 =$

③  $638 - 354 =$

⑤  $152 + 308 =$

②  $251 + 319 =$

④  $768 - 373 =$

⑥  $976 - 485 =$

## 二、把表格补充完整。

被减数	306		204	330	
减数	154	245			441
差		193	82	123	278

一、下面的计算对吗? 对的在( )里画“√”, 错的画“×”并改正。

$$\begin{array}{r} \textcircled{1} \quad 425 \\ + 356 \\ \hline 771 \end{array}$$

( )

$$\begin{array}{r} \textcircled{2} \quad 830 \\ - 315 \\ \hline 515 \end{array}$$

( )

$$\begin{array}{r} \textcircled{3} \quad 405 \\ - 182 \\ \hline 323 \end{array}$$

( )

二、把表格补充完整。

加数	227		152	613	326
加数	349	326		178	
和		418	409		745

三、解决问题。

某蔬菜批发市场有 976 千克白菜, 上午卖出 485 千克, 下午卖出 273 千克。

这一天共卖出多少千克白菜? 还剩多少千克白菜?

## 一、用竖式计算并验算。

①  $372 + 465 =$

③  $243 + 664 =$

⑤  $443 + 464 =$

②  $850 - 249 =$

④  $625 - 243 =$

⑥  $863 - 635 =$

## 二、解决问题。

葡萄园里收获了 638 箱葡萄，第一次运走了 252 箱，第二次运走了 139 箱。

还剩下多少箱葡萄？

## 一、读一读,填一填。

- ① 在加法算式中,交换两个加数的位置,和( )。
- ② 在减法算式中,差和减数相加得( )。
- ③ 光明小学一年级植树 492 棵,二年级植树 513 棵,估算一下,光明小学这两个年级一共植树约( )棵。

## 二、在( )里填上合适的单位或数。

- ① 桌子高约 7( )
- ② 1 角硬币厚约 2( )
- ③ 一根跳绳长约 200( )
- ④ 长江全长约 6300( )
- ⑤ 4 米 = ( ) 分米
- ⑥ 60 毫米 = ( ) 厘米
- ⑦ 7 千米 = ( ) 米
- ⑧ 40 厘米 + 360 厘米 = ( ) 分米
- ⑨ 9 千米 - ( ) 米 = 5 千米
- ⑩ 1 米 - 30 厘米 = ( ) 厘米
- ⑪ 3000 米 + 4000 米 = ( ) 千米
- ⑫ 8 千米 - 3 千米 = ( ) 米

## 三、算一算,估一估。

①  $660 + 70 =$

⑥  $89 - 74 =$

⑪  $902 - 321 \approx$

②  $400 - 30 =$

⑦  $600 + 38 =$

⑫  $373 + 436 \approx$

③  $320 + 200 =$

⑧  $500 + 270 =$

⑬  $230 + 320 =$

④  $86 + 70 =$

⑨  $130 + 400 =$

⑭  $670 - 50 =$

⑤  $1000 - 300 =$

⑩  $707 + 301 \approx$

⑮  $430 + 210 =$

## 四、在( )里填上合适的数。

①  $1 \text{ 米} - 5 \text{ 分米} = ( \quad ) \text{ 分米}$

④  $9 \text{ 分米} - 14 \text{ 厘米} = ( \quad ) \text{ 厘米}$

②  $69 \text{ 分米} - 6 \text{ 米} = ( \quad ) \text{ 分米}$

⑤  $2 \text{ 分米} - 12 \text{ 厘米} = ( \quad ) \text{ 厘米}$

③  $75 \text{ 毫米} - 15 \text{ 毫米} = ( \quad ) \text{ 厘米}$

⑥  $24 \text{ 厘米} + 16 \text{ 厘米} = ( \quad ) \text{ 分米}$

复习

43

时间：\_\_\_分\_\_\_秒 评价：☆☆☆☆☆

五、用竖式计算,带※的要验算。

①  $402 + 264 =$

②  $947 - 412 =$

③  $※732 - 426 =$

六、解决问题。

一年级有 583 名学生,二年级学生的数量比一年级多得多,三年级学生的数量比一年级少一些。

二年级可能有多少名学生? 在合适的答案下面画“√”。

三年级可能有多少名学生? 在合适的答案下面画“○”。

100	560	600	850



七、解决问题。

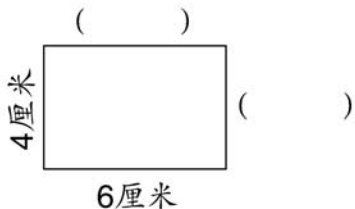
- ① 一箱苹果有 500 个，幼儿园里一共有男生 270 人、女生 190 人，一人分一个苹果，这些苹果够吗？
- ② 一本书有 452 页，小明已经看了 243 页，还剩多少页没看？
- ③ 果园里有桃树和梨树一共 986 棵，其中桃树有 379 棵，梨树有多少棵？

## 一、读一读,填一填。

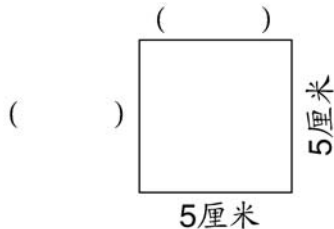
- ① 长方形有( )条边,对边( ),四个角都是( )。
- ② 正方形有( )条边,( )都相等,四个角都是( )。
- ③ 四个角都是直角的四边形( )是正方形。(填“一定”或“不一定”)
- ④ 四条边都相等的四边形( )是正方形。(填“一定”或“不一定”)

## 二、不测量,填出每条边的长度。

①



②



一、下面的图形分别是几边形？

①



( ) 边形

②



( ) 边形

③




( ) 边形

④



( ) 边形

二、数一数,填一填。



长方形	正方形	三角形	圆	平行四边形
( ) 个	( ) 个	( ) 个	( ) 个	( ) 个

## 一、用竖式计算。

①  $539 + 285 =$

③  $263 + 179 =$

⑤  $488 + 314 =$

②  $618 + 286 =$

④  $457 + 364 =$

⑥  $354 + 278 =$

## 二、把表格补充完整。

被减数		742	329	368		564	904	
减数	265		198		446		286	458
差	145	158		299	288	378		365

## 一、用竖式计算。

①  $129 + 185 =$

③  $423 + 298 =$

⑤  $265 + 257 =$

②  $463 + 189 =$

④  $286 + 445 =$

⑥  $345 + 267 =$

## 二、在( )里填上合适的数。

①  $742 + 178 = ( \quad )$

④  $768 + ( \quad ) = 924$

②  $447 - ( \quad ) = 158$

⑤  $564 - ( \quad ) = 376$

③  $325 - ( \quad ) = 176$

⑥  $447 + ( \quad ) = 723$

## 一、用竖式计算。

①  $713 - 548 =$

③  $434 - 237 =$

⑤  $614 - 358 =$

②  $415 - 348 =$

④  $726 - 387 =$

⑥  $512 - 247 =$

## 二、在○里填上“&gt;”“&lt;”或“=”。

①  $743 - 457$  ○  $296$

③  $923 - 764$  ○  $169$

⑤  $232$  ○  $621 - 489$

②  $415 - 347$  ○  $78$

④  $729 - 387$  ○  $342$

⑥  $364$  ○  $512 - 248$

## 一、用竖式计算。

①  $957 - 468 =$

③  $872 - 295 =$

⑤  $726 - 648 =$

②  $532 - 264 =$

④  $423 - 267 =$

⑥  $865 - 297 =$

## 二、解决问题。

停车场原来停放了 357 辆车，开走了 169 辆车，又开来了 123 辆车。这时停车场停放了多少辆车？

## 一、用竖式计算并验算。

①  $252 + 168 =$

③  $523 - 247 =$

⑤  $635 - 286 =$

②  $382 + 238 =$

④  $942 - 468 =$

⑥  $433 + 287 =$

## 二、解决问题。

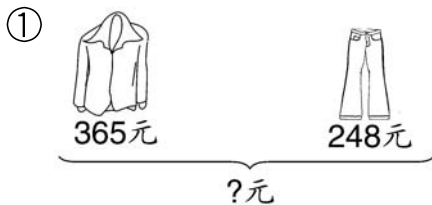
图书馆原有 821 本书,一年级借了 287 本,二年级借了 348 本。

① 两个年级一共借了多少本书?

② 图书馆里还剩多少本书?



## 一、看图列式计算。



## 二、解决问题。

育才小学图书室有故事书 624 本,故事书比科技书少 189 本。育才小学图书室有科技书多少本?

## 一、用竖式计算。

①  $805 - 234 =$

③  $509 - 259 =$

⑤  $701 - 309 =$

②  $607 - 213 =$

④  $704 - 328 =$

⑥  $208 - 156 =$

## 二、把表格补充完整。

加数		245	196	254	117		157	309
加数	317		208	379		128		292
和	503	602			406	704	309	

## 一、用竖式计算。

①  $610 - 256 =$

③  $430 - 169 =$

⑤  $370 - 282 =$

②  $400 - 192 =$

④  $300 - 286 =$

⑥  $600 - 312 =$

## 二、把表格补充完整。

被减数	500	800			610	430	303	
减数	218		286	169	247		289	496
差		532	135	273		159		307

## 一、用竖式计算并验算。

①  $304 - 156 =$

③  $400 - 236 =$

⑤  $900 - 452 =$

②  $302 - 187 =$

④  $300 - 245 =$

⑥  $708 - 379 =$

## 二、在( )里填上合适的数。

①  $900 - ( ) = 431$

③  $( ) - 369 = 241$

⑤  $603 - ( ) = 137$

②  $600 - ( ) = 248$

④  $300 - ( ) = 159$

⑥  $802 - ( ) = 639$

## 一、用竖式计算并验算。

①  $507 - 428 =$

③  $700 - 622 =$

⑤  $507 - 429 =$

②  $604 - 527 =$

④  $306 - 278 =$

⑥  $804 - 547 =$

## 二、在○里填上“&gt;”“&lt;”或“=”。

①  $700 - 522$  ○  $288$

③  $708 - 429$  ○  $279$

⑤  $266$  ○  $803 - 547$

②  $600 - 427$  ○  $183$

④  $306 - 279$  ○  $127$

⑥  $288$  ○  $707 - 429$

一、下面的计算对吗? 对的在( )里画“√”, 错的画“×”并改正。

$$\textcircled{1} \begin{array}{r} 905 \\ - 376 \\ \hline 639 \end{array}$$

( )

$$\textcircled{2} \begin{array}{r} 506 \\ - 239 \\ \hline 367 \end{array}$$

( )

$$\textcircled{3} \begin{array}{r} 900 \\ - 348 \\ \hline 562 \end{array}$$

( )

二、解决问题。

① 花店里原有 800 盆花, 第一辆货车运走了 248 盆, 第二辆货车运走了 288 盆。两辆货车一共运走了多少盆花? 花店里还剩多少盆花?

② 某校师生植树节种植了 370 棵杨树、289 棵柳树。该校师生植树节一共种植了多少棵树? 种植的杨树比柳树多多少棵?

## 一、用竖式计算。

①  $300 - 268 =$

③  $400 - 327 =$

⑤  $406 - 278 =$

②  $503 - 428 =$

④  $600 - 523 =$

⑥  $1000 - 334 =$

## 二、解决问题。

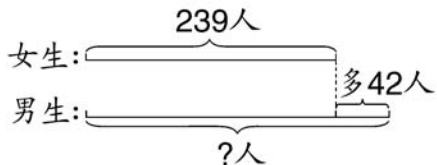
学校图书室有 900 本《少儿百科全书》，借出一些后还剩 567 本。

① 借出多少本《少儿百科全书》？

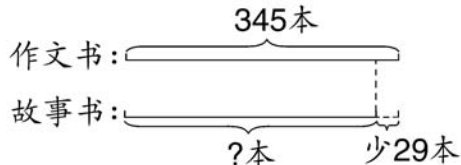
② 借出的《少儿百科全书》比剩下的少多少本？

## 一、看图列式计算。

①



②

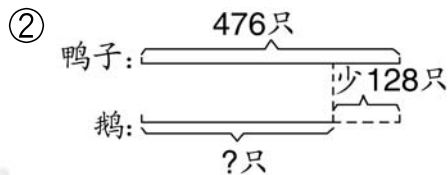
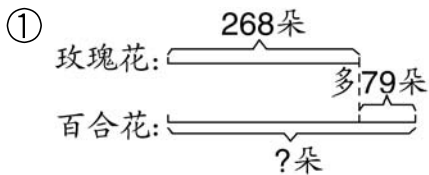


## 二、解决问题。

某超市购进了 276 箱萝卜,购进的白菜比萝卜多 129 箱,购进的芹菜比白菜少 228 箱。这个超市购进了多少箱白菜? 多少箱芹菜?



## 一、看图列式计算。



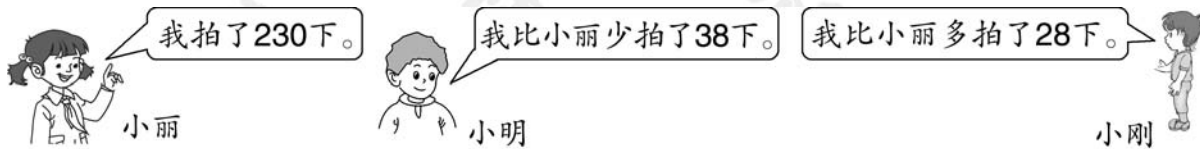
## 二、解决问题。

① 果园里有桃树 216 棵,比梨树少 18 棵。果园里有梨树多少棵?

② 花园里有菊花 712 棵,比月季花多 157 棵。菊花和月季花一共有多少棵?

解决问题。

① 三个小朋友练习拍球。



小明拍了多少下? 小刚拍了多少下?

② 公园里栽了 430 棵月季花,栽的牡丹花比月季花少 166 棵,栽的凤仙花比牡丹花少 78 棵。公园里栽了多少棵牡丹花? 多少棵凤仙花?

解决问题。

① 下面是某蔬菜批发市场三种蔬菜一天的批发情况。



西红柿：270箱



黄瓜：比西红柿多76箱



青椒：比西红柿少108箱

这个蔬菜批发市场这一天批发了多少箱黄瓜？多少箱青椒？

② 某小学一年级有 436 人，二年级比一年级多 55 人，三年级比二年级少 38 人。这个小学二年级有多少人？三年级有多少人？



# 五四学制口算题卡

二年级下册

责任编辑：王 敏  
装帧设计：王其宝  
刘羽珂



ISBN 978-7-5333-3043-9



9 787533 330439

定价：9.00元